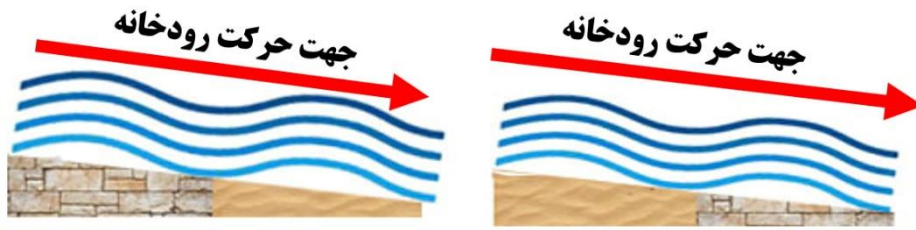


بارم	نمونه سوالات پیشنهادی پایه هفتم - فصل ۶	ردیف												
۰/۷۵	<p><b>جای خالی را توسط کلمه های درون پرانتز، کامل کنید.</b></p> <p>الف- به مجموعه آب های موجود در هوا کره ، سطح و درون زمین که به صورت جامد، مایع و بخار می باشند، ..... گفته می شود. ( رودخانه-آب کره)</p> <p>ب- هرگاه در فرایند متراکم شدن ابرها، دمای هوا خیلی کم باشد، رطوبت هوا به شکل ..... به سطح زمین می ریزد. (باران-برف)</p> <p>پ- منطقه ای که آب های سطحی آن، توسط یک رود و انشعابات آن از نقاط مرتفع به سمت نواحی پست تر هدایت می شود،..... نام دارد. (بخچال-حوضه آبریز)</p>	۱												
۰/۷۵	<p>در کدام منطقه، شکل رودخانه، مارپیچی است؟ چرا؟</p> <div style="display: flex; justify-content: space-around;"> <div data-bbox="155 999 545 1255"> <p style="text-align: center;"><b>منطقه ۱</b></p> </div> <div data-bbox="570 999 954 1255"> <p style="text-align: center;"><b>منطقه ۲</b></p> </div> </div>	۲												
۰/۵	<p>جدول زیر، میانگین بارش در سه شهر اصفهان، بندر انزلی و تهران را نشان می دهد.</p> <table border="1" style="width: 100%; text-align: center;"> <thead> <tr> <th>نام شهر</th> <th>اصفهان</th> <th>بندر انزلی</th> <th>آبادان</th> </tr> </thead> <tbody> <tr> <td>میانگین بارش (میلی متر)</td> <td>۱۱۲</td> <td>۱۶۷۵</td> <td>۲۷۳</td> </tr> <tr> <td>رطوبت نسبی</td> <td>٪۳۳</td> <td>٪۸۷</td> <td>٪۸۰</td> </tr> </tbody> </table> <p>علت اختلاف زیاد بارندگی در بندر انزلی با دو شهر آبادان و اصفهان چیست؟</p>	نام شهر	اصفهان	بندر انزلی	آبادان	میانگین بارش (میلی متر)	۱۱۲	۱۶۷۵	۲۷۳	رطوبت نسبی	٪۳۳	٪۸۷	٪۸۰	۳
نام شهر	اصفهان	بندر انزلی	آبادان											
میانگین بارش (میلی متر)	۱۱۲	۱۶۷۵	۲۷۳											
رطوبت نسبی	٪۳۳	٪۸۷	٪۸۰											

در کدام زمین، آبشار تشکیل می شود؟ چرا؟



الف سنگ نرم  
سنگ مقاوم

ب سنگ مقاوم  
سنگ نرم

شکل روبرو، دریاچه خزر در کشور عزیزمان ایران را نشان می دهد. دریای خزر، بزرگ ترین دریاچه دنیا، بزرگ ترین پهنه آبی حصر شده در خشکی، یکی از شگفتی های منطقه خاورمیانه است. این دریاچه خودکفا به هیچ دریای آزادی راه ندارد و از طریق کانال به دریای سیاه متصل می شود.




الف- چرا به خزر، دریاچه می گویند؟

ب- اهمیت دریاچه ها در چیست؟

پ- نام یک دریاچه مصنوعی و یکی از کاربردهای آن را بنویسید.

در شکل مقابل، کدام پدیده ممکن است روی کره ی زمین روی دهد؟ برای انتخاب خود، دلیل بیاورید.



ب- جزر و مد

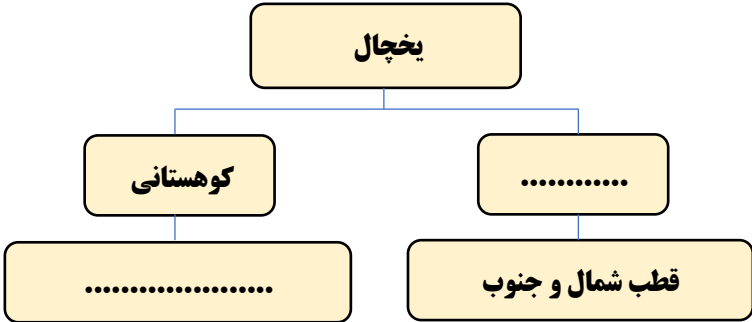
الف- آبشار

ت- رودخانه

پ- یخچال



۰/۷۵	<p>با توجه به مفاهیم داده شده، هر عبارت را به کلمه ی مناسب وصل کنید؟ (یک کلمه اضافه است)</p> <p>عبارت</p> <p>کلمه</p> <hr/> <p>الف) امواج بزرگی در دریا هنگام وقوع زمین لرزه و آتشفشان های زیر دریایی . * هموار</p> <p>ب) شکل سواحل در قسمت هایی که سنگ های ساحلی مقاومت کمتری دارند. * آبتاز</p> <p>پ) مجموعه آب های موجود در هواکره، سطح و درون زمین به صورت جامد، مایع و گاز * صخره ای</p> <p>* آب کره</p>	۱۱
۰/۷۵	<p>در هر کدام از گزینه های زیر، کدام شکل بارش به وجود می آید؟ از جعبه کلمات زیر استفاده کنید.</p> <div style="border: 1px solid black; padding: 5px; width: fit-content; margin: 10px auto;">برف- باران - تگرگ</div> <p>الف- هرگاه دمای هوا هنگام تراکم، بالاتر از صفر درجه ی سلسیوس باشد، رطوبت هوا به شکل ..... به سطح زمین می ریزد.</p> <p>ب- هرگاه در فرایند متراکم شدن ابرها، دمای هوا خیلی کم (زیر صفر) باشد، رطوبت هوا به شکل ..... به سطح زمین می ریزد.</p> <p>پ- اگر قطره های باران در مسیر پایین آمدن به سطح زمین از توده ی هوای سرد عبور کنند به ..... تبدیل می شوند.</p>	۱۲
۱	<p>با توجه به مفهوم هر عبارت ، کلمه مناسب را انتخاب کرده و در جای خالی بنویسید.</p> <p>الف- دریاچه ی ..... ، به علت شکستگی های قسمتی از سنگ کره ، ایجاد شده است. ( خزر- ارومیه - سبلان )</p> <p>ب - اگر شیب زمینی که رودخانه در آن جریان دارد، زیاد باشد؛ رودخانه مسیر ..... پیدا می کند.</p> <p>( ماریچ - پُریچ - مستقیم )</p> <p>پ- اگر رودخانه در ادامه مسیر خود به محلی برسد که بستر آن به طور ناگهانی دچار اختلاف ارتفاع شود؛ ..... ایجاد می گردد. ( تند آب - آبتاز - یخچال )</p> <p>ت- در قسمت هایی که جنس سنگ های ساحلی در برابر فرسایش مقاوم اند؛ شکل ساحل به صورت ..... است.</p> <p>( صخره ای - هموار - ماسه ای )</p>	۱۳

۰/۵	<p>مینا با خانواده اش از اهواز به سمت بندر دیلم حرکت کردند. مینا در راه، از پدرش پرسید: (( آیا می توانیم طی مسیر، به کنار دریا برویم؟)) پدرش به او پاسخ داد: (( در قسمت هایی که سنگ های ساحلی مقاومت کمتری دارند، می توان به ساحل رفت.))</p> <p>شکل ساحل در این مناطق چگونه است؟</p>	۱۴
۰/۵	<p>بیشتر مناطق کشورمان ایران، در منطقه نیمه بیابانی و بیابانی است و میزان بارش سالیانه کم است، با توجه به این مورد، شما چه راهکارهایی برای استفاده از بهینه آب پیشنهاد می کنید؟ ( دو راهکار)</p>	۱۵
۰/۵	<p>نمودار نقشه مفهومی زیر را کامل کنید.</p>  <pre> graph TD     A[یخچال] --&gt; B[کوهستانی]     A --&gt; C[.....]     B --&gt; D[.....]     C --&gt; E[قطب شمال و جنوب] </pre>	۱۶